
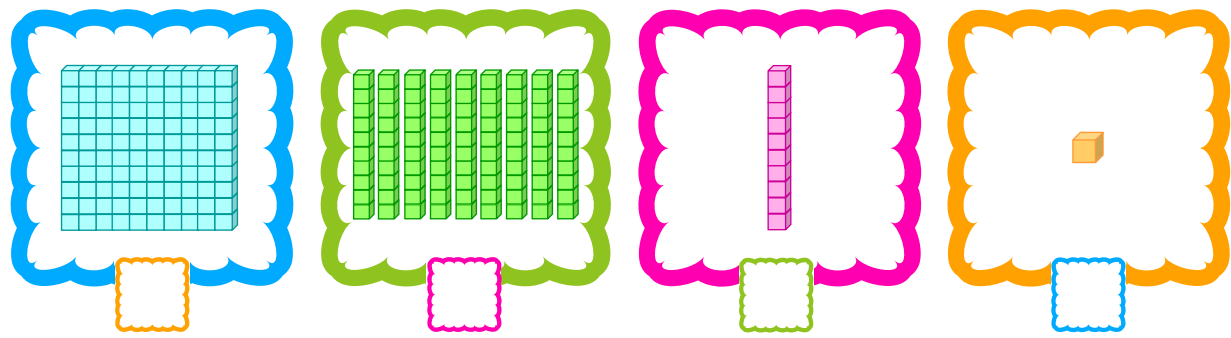





۱ با پر کردن جاهای خالی با عددهای مناسب حیوانات زیر کمک کن به خانه‌هایشان برسند.



۲ هر کدام از شکل‌های زیر چه عددی را نشان می‌دهد؟



۳ در هر قلک چند ریال پول وجود دارد؟





۴ جاهای خالی را پر کن.

۵۰ سکه یک ریالی می شود ..... ریال، یعنی ..... تا سکه ۱۰ ریالی

۹۰ سکه یک ریالی می شود ..... ریال، یعنی ..... تا سکه ۱۰ ریالی

یک سکه ۱۰۰ ریالی می شود ..... ریال، یعنی ..... تا سکه ۱۰ ریالی

۱۰ سکه ۱۰۰ ریالی می شود ..... ریال، یعنی ..... تا سکه ۱۰۰ ریالی


۱۰ سکه ۱۰ ریالی می شود ..... ریال، یعنی ..... تا سکه ۱ ریالی

۵ رادمان در قلک خود ۹ سکه ۱۰ ریالی و ۱۰ سکه یک ریالی داشت. او چند ریال پول دارد؟



او تمام سکه‌های خود را به بانک تحویل داد و یک سکه از بانک گرفت. شکل سکه او را بکش.

۶ به کارمند بانک کمک کن و با توجه به درخواست مشتری، شکل سکه‌هایی که باید تحویل دهد را بکش.





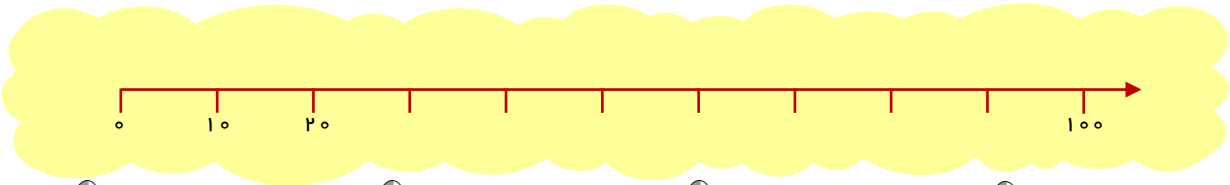
الگویابی کن.

۷ الگوهای عددی را ادامه بده.

۶	۱۲	۱۸						
۵	۱۰	۱۵						
۸	۱۶	۲۴						



۸ ابتدا عددهای محور را کامل کن و با توجه به محور جاهای خالی را کامل کن.



$۲۰ + \dots = ۱۰۰$	$۳۰ + \dots = ۵۰$	$۱۰۰ - ۵۰ = \dots$	$۱۰۰ - ۱۰ = \dots$
$۴۰ + ۵۰ = \dots$	$۶۰ + ۳۰ = \dots$	$۸۰ + ۲۰ = \dots$	$۱۰۰ - ۳۰ = \dots$

۹ ارزش سکه‌های هر قسمت را بنویس.

<input type="text"/>	<input type="text"/>	<input type="text"/>	<input type="text"/>



۱۰ با توجه به اندازه پول خواسته شده سکه‌های ۱۰ ریالی یا ۱ ریالی بکش.



۱۱ کوروش ۱۰۰ ریال دارد. برادرش ۲۰ ریال کمتر از او دارد. برادر کوروش

چند ریال دارد؟



۱۲ ملورین قصد دارد با پس‌انداز خود یک مداد ۱۰۰ ریالی بخرد. او در قلک خود

۷۰ ریال دارد. برای خرید مداد چند ریال دیگر باید پس‌انداز کند؟



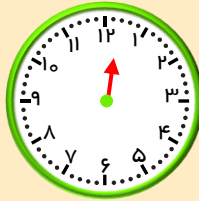
۱۳ رادمان ۴۰ ریال داشت. پدربزرگ ۴۰ ریال دیگر به او عیدی داد. او اکنون چند ریال دارد؟



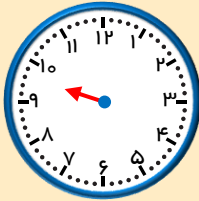


کامل کن.

۱۴ عقربه‌های بزرگ هر ساعت را بکش.



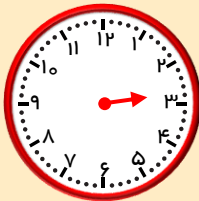
۱۵ دقیقه بعد از ساعت ۱۲ چه ساعتی است؟



۱۰ دقیقه بعد از ساعت ۳:۰۹ دقیقه را نشان بده. چه ساعتی می‌شود؟



۳۰ دقیقه بعد از ساعت ۷ چه ساعتی است؟

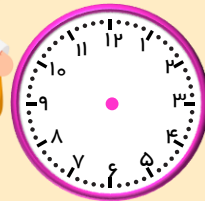


۲۵ دقیقه بعد از ساعت ۱۵ : ۲ دقیقه را نشان بده. چه ساعتی می‌شود؟

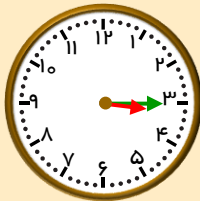


۱۵ کسرا ساعت ۸ از خانه به سمت مدرسه حرکت کرد و ۲۰ دقیقه دیگر به مدرسه


رسید. کسرا چه ساعتی به مدرسه رسیده است؟ روی شکل نشان بده.



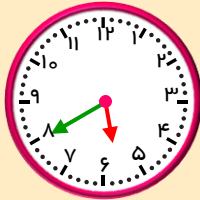
۱۶ عقربه‌های ساعت را با توجه به زمان‌های داده شده قرار بده و بعد زمان ساعت‌ها را بنویس.




نیم ساعت بعد



..... : .....



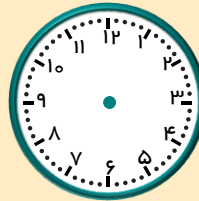
۱۰ دقیقه بعد



..... : .....



یک ربع بعد



..... : .....

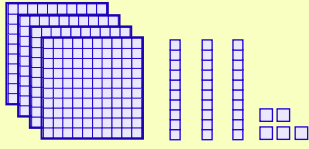




معرفی عددهای سه رقمی




۱۷ عددی را که هر شکل نشان می‌دهد را در جدول قرار بده سپس با رقم و حروف بنویس.



ص	د	ی

به رقم: .....

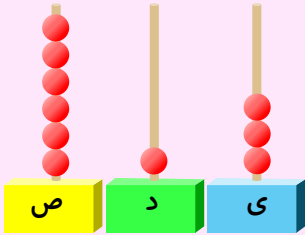
به حروف: .....



ص	د	ی

به رقم: .....

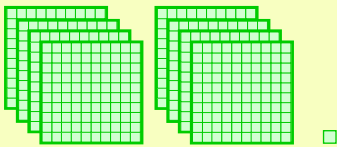
به حروف: .....



ص	د	ی

به رقم: .....


به حروف: .....



ص	د	ی

به رقم: .....

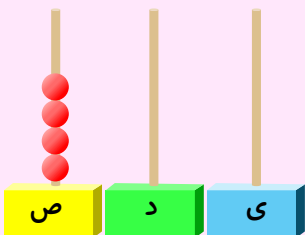
به حروف: .....



ص	د	ی

به رقم: .....

به حروف: .....



ص	د	ی

به رقم: .....

به حروف: .....

کتاب کار ریاضی دوم دبستان - مؤلف: مهسا حاتمی



۱۸ اعداد زیر را روی چرتکه نشان بده و جدول و جاهای خالی را کامل کن.

۳ دسته صدتایی و ۴ دسته ده تایی

به رقم : .....

به حروف : .....

ص	د	ی

۵ دسته صدتایی و ۲ دسته ۱۰ تایی و ۶ تا یکی

به رقم : .....

به حروف : .....

ص	د	ی

۴ دسته ۱۰۰ تایی و ۵ تا یکی

به رقم : .....

به حروف : .....

ص	د	ی


۷ دسته صدتایی



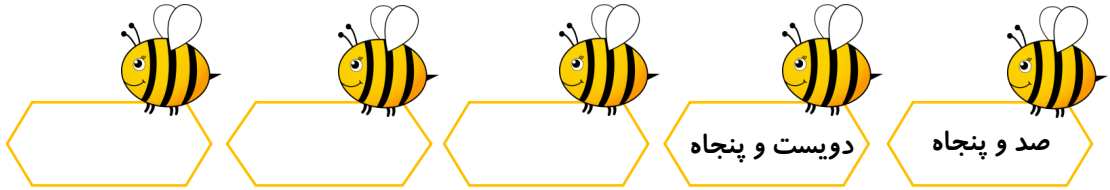
به رقم : .....

به حروف : .....

ص	د	ی

۱۹ الگوهای زیر شمارش صدتا صدتا می باشد. آنها را ادامه بده.





۲۰ به رقم بنویس.



نصد



چهارصد و نود و سه



هفتصد و نه



پانصد و هفت







شش صد و هشتاد و چهار



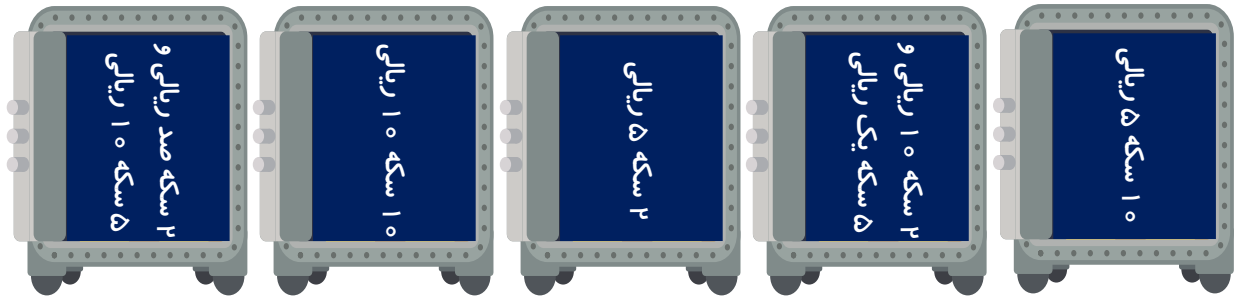
دویست و سی

۲۱ به حروف بنویس.





۲۲ هر شکل را به سکه مناسب آن وصل کن.




۲۳ رادمان برای خرید هر توپ به فروشنده ۵ سکه ۱۰۰ ریالی و ۳ سکه ۱۰ ریالی و ۴ سکه یک



ریالی پرداخت کرد. قیمت توپ چند ریال است؟

۲۴ مهسا ۴۳۰ ریال پول دارد. پولهای او را بکش و در جدول ارزش مکانی قرار بده.



۲۵ کسرا یک سکه ۵۰۰ ریالی و یک سکه ۲۵۰ ریالی به بانک داد و از کارمند بانک خواست که به

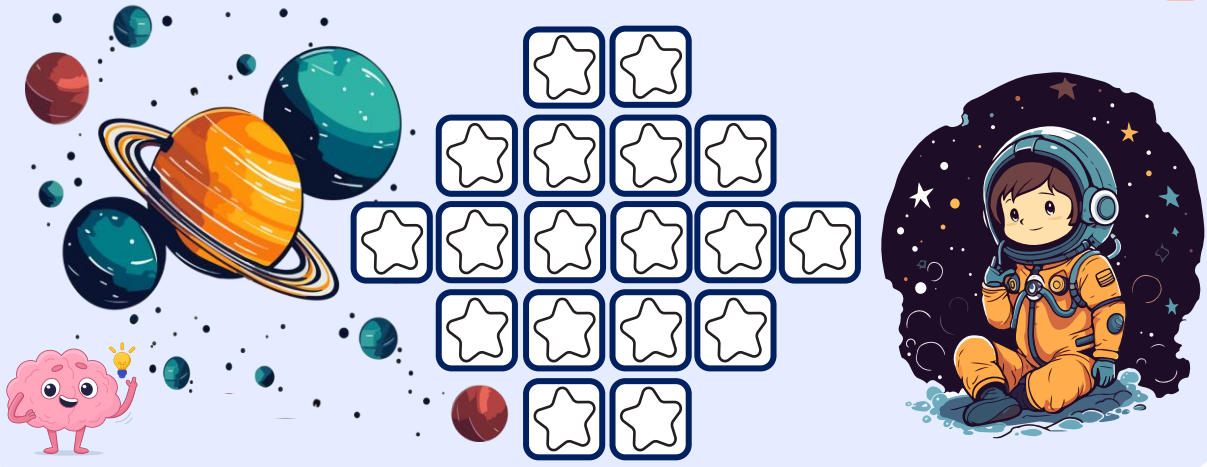
جای آنها به او سکه‌های ۱۰۰ ریالی و ۱۰ ریالی بدهد.

عکس سکه‌هایی که کسرا می‌گیرد را بکش.



خلاق باش.

۲۶ با چهار رنگ، ستاره‌های زیر را رنگ کن طوری که هیچ دو ستاره کنار هم هم‌رنگ نباشند.



حل مسئله ( حذف حالت‌های نامطلوب )

۲۷ با سه کارت که رقم‌های ۲ و ۹ و ۵ روی آن نوشته شده، تمام عددهای سه رقمی که

می‌توان ساخت را درست کن و بنویس. چند عدد سه رقمی درست شد؟



۲۸ حالا با سه کارت که روی آن‌ها ۰ و ۹ و ۵ رقم‌های نوشته شده، تمام عددهای

سه رقمی را که می‌توان ساخت درست کن. چند عدد سه رقمی درست شد؟



۲۹ چرا تعداد عددهای سه رقمی ساخته شده در سوال ۲۸ کمتر از سوال ۲۷ است؟



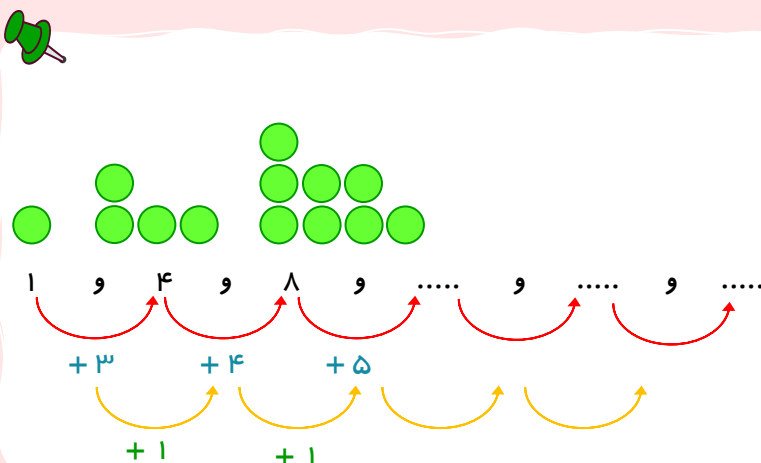
۳۰ با کارت‌های ۲ و ۹ و ۵ یک عدد سه رقمی بساز که یکان آن بزرگترین رقم و دهگان



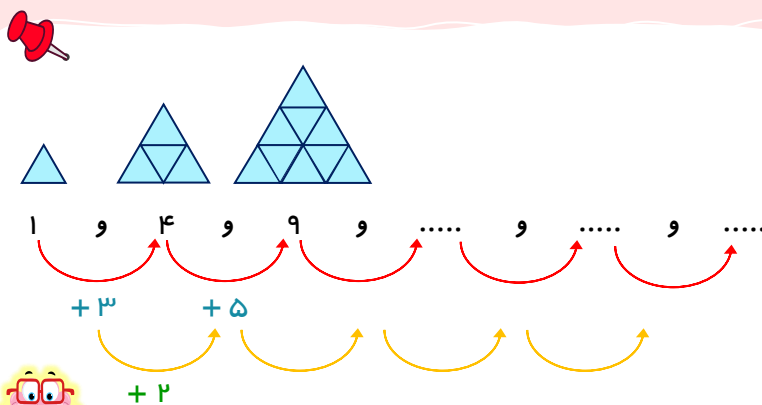
آن کوچکترین رقم باشد.

الگویابی کن.

۳۱ الگو را ادامه بده.



۳۲ هر شکل از چند مثلث درست شده است؟ الگو را ادامه بده.

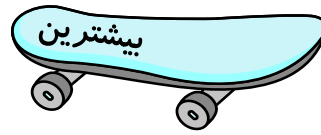
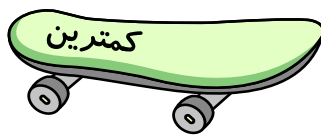


۳۳ با کارت‌های ۶ و ۹ و ۴ تمام عددهای سه رقمی که یکان آن‌ها بیشتر دهگان‌شان است،

بنویس.



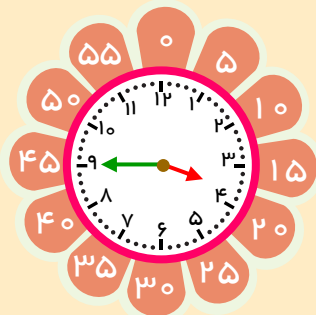
۳۴ با کارت‌های رقم ۲ و ۵ و ۳ بیشترین و کمترین عدد سه رقمی را بنویس.



۳۵ تمام عددهای سه رقمی را که با رقم‌های ۵ و ۴ و ۹ می‌توان نوشت به گونه‌ای که جمع رقم‌های دهگان و صدگان آن برابر رقم یکان باشد.

کامل کن.

۳۶ به سوال‌های زیر جواب بده.



03:45

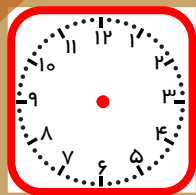
۵ دقیقه بعد از ۳ : ۴۵ چه ساعتی است؟

۲۰ دقیقه بعد از ۱۱ : ۲۵ چه ساعتی است؟

یک ربع بعد از ۸ : ۰۵ چه ساعتی است؟

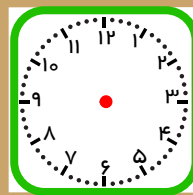
نیم ساعت بعد از ۱ : ۲۰ چه ساعتی است؟

۳۷ عقربه‌های ساعت قرمز را بکش. سپس به مقدار خواسته شده جلو برو و زمان جدید را روی ساعت‌ها نشان بده و بنویس.

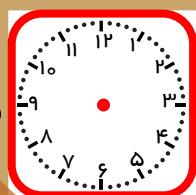


۱۲ : ۱۰

نیم ساعت  
بعد

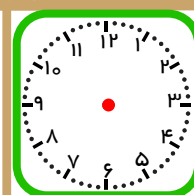


..... : .....



۸ : ۰۰

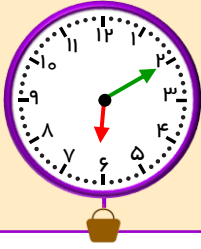
۲۰ دقیقه  
بعد




..... : .....



۳۸ در هر شکل، ساعت چند است؟ کامل کن.



۳۵ دقیقه بعد چه ساعتی است؟



یک ربع بعد چه ساعتی است؟



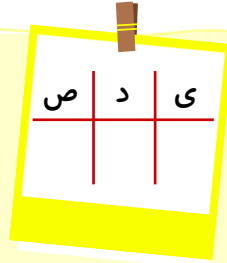
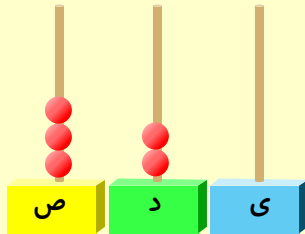
۱۰ دقیقه بعد چه ساعتی است؟



تقریب اعداد سه رقمی



۳۹ عددی را که چرتکه نشان می‌دهد در جدول ارزش مکانی نشان بده و آن را از جدول خارج کن.



به رقم : .....

به حروف : .....

الف) هر بار یک مهره ده تایی اضافه کن و جدول‌های بعدی را کامل کن.



ص د ی

به رقم : .....

به حروف : .....



ص د ی

به رقم : .....


به حروف : .....



ص د ی

به رقم : .....

به حروف : .....



ب) حالا بدون جدول ارزش مکانی به همین ترتیب با اضافه کردن مهره‌های ۱۰ تایی الگوی عددی را کامل کن.

۳۲۰	- ۳۳۰	- ۳۴۰	-	-	-	-	-
-----	-------	-------	---	---	---	---	---

۴۰ عددی را که شکل مقابل نشان می‌دهد در جدول ارزش مکانی نشان بده. سپس هر بار یک دسته صدتایی اضافه کن و بنویس.

به رقم : .....

به حروف : .....


..... و ..... و ..... و ..... و ..... و ..... و ..... و .....

۴۱ عددهای زیر را یکی یکی ادامه بده.


۴۲ عددهای زیر را ده تا ده تا ادامه بده.

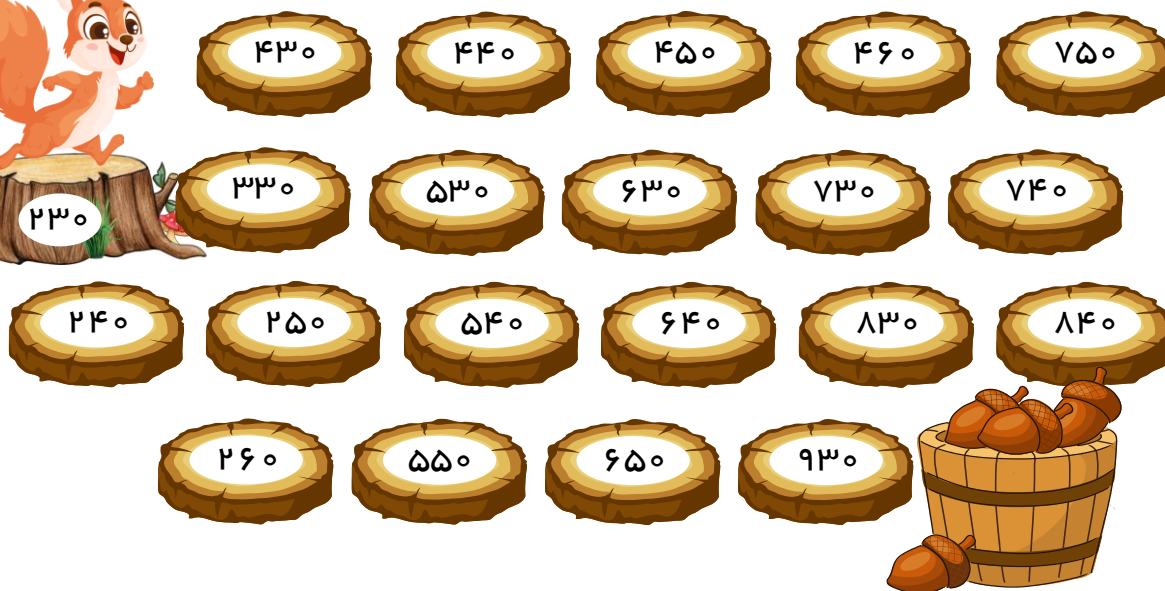



۴۳ عددهای زیر را صد تا صد تا ادامه بده.

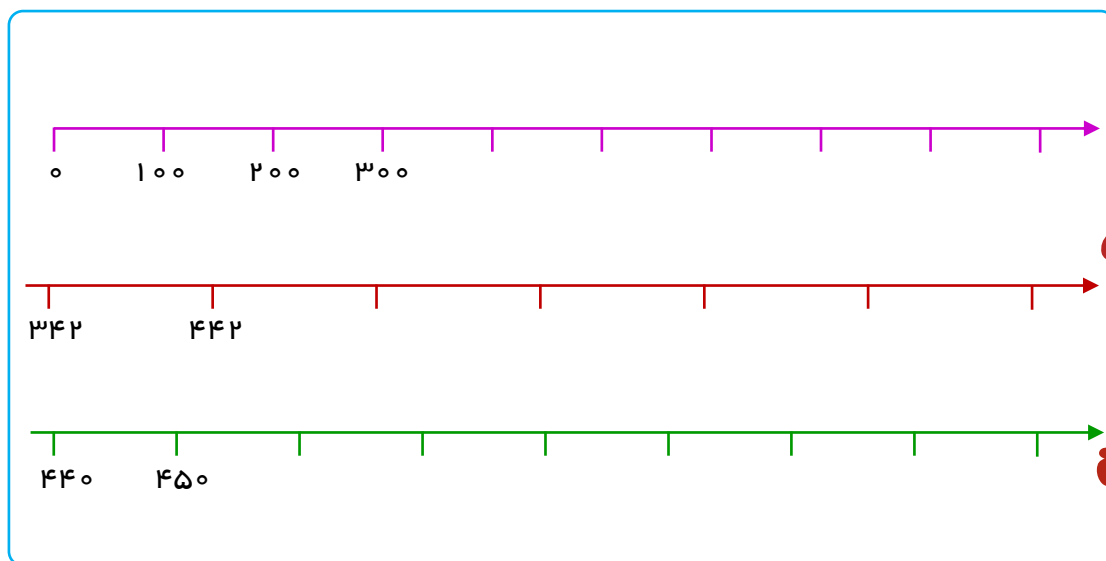


۴۴ روی هر تنه‌ی درخت عددی نوشته شده است. به عددی که سنجاب روی آن نشسته نگاه کن.

سپس هر بار یک دسته صدتایی به آن اضافه کن و مسیر حرکت را پیدا کن و رنگ بزن.

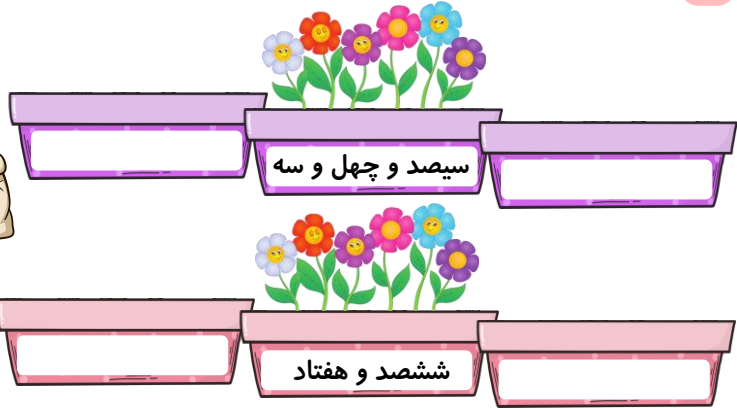


۴۵ در هر قسمت جاهای خالی را کامل کن.



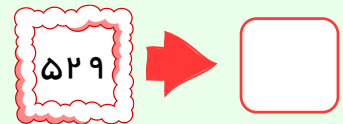
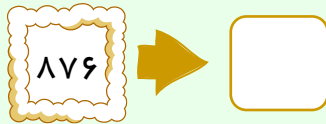
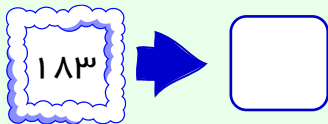


۴۶ قبل و بعد عددهای زیر را بنویس.



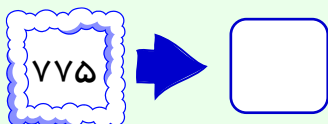


تقریب بزن

۴۷ عددهای زیر را با حذف رقم یکان و قرار دادن صفر به جای آن به صورت تقریبی بنویس.



۴۸ عددهای زیر را با حذف رقم یکان و دهگان قرار دادن صفر به جای آن به صورت تقریبی بنویس.



۴۹ در یک حوض ۳۷۲ ماهی است. این حوض نزدیک به چند ماهی دارد؟


۵۰ ابتدا مقدار پول هر کیسه را حساب کن. سپس با حذف رقم یکان مقدار تقریبی آن را بنویس.






۵۱ با توجه به الگوی عددی که در جدول زیر وجود دارد، آن را کامل کن.


۱۰	۲۰					۷۰			
۱۱۰				۱۵۰	۱۶۰				۲۰۰
		۲۳۰					۲۸۰		۳۰۰
	۳۲۰						۳۸۰	۳۹۰	
۴۱۰			۴۴۰	۴۵۰					
	۵۲۰				۵۶۰	۵۷۰	۵۸۰		
		۶۳۰							۷۰۰
		۷۳۰	۷۴۰				۷۸۰	۷۹۰	
	۸۲۰			۸۵۰	۸۶۰				۹۰۰
	۹۲۰	۹۳۰				۹۷۰		۹۹۰	



۵۲ با توجه به هر شکل، جاهای خالی را کامل کن.



در این جعبه سیب در حدود ..... سیب وجود دارد.

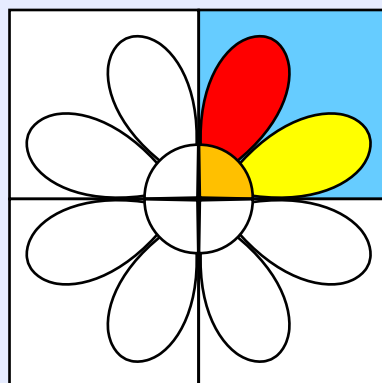


در این دسته گل در حدود ..... گل وجود دارد.



خلاق باش.

۵۳ شکل را طوری رنگ کن که به صورت افقی و عمودی تقارن داشته باشد.






آمادگی برای جمع و تفریق

۵۴ از ۹۱ تا ۱۳۰ را در جدول زیر کامل کن. سپس به کمک جدول اعداد، پاسخ جمع و تفریق‌ها را بنویس.

۹۱	۹۲	۹۳				۹۸	
			۱۰۴	۱۰۵		۱۰۷	۱۱۰
۱۱۱	۱۱۲						۱۱۹
			۱۲۴		۱۲۶		



۵۴ جمع و تفریق‌ها را به صورت ذهنی حساب کن.

۵ + ۴ =

۵۰ + ۴۰ =

۵۰۰ + ۴۰۰ =

۶ + ۲ =

۶۰ + ۲۰ =

۶۰۰ + ۲۰۰ =

۸ - ۳ =

۸۰ - ۳۰ =

۸۰۰ - ۳۰۰ =



۵۵ به کمک محور جمع و تفریق‌ها را انجام بده.

0 100 200 300 400 500 600 700 800 900

$100 + 500 =$ 
 $400 + 200 =$ 
 $300 + 300 =$

$800 - 300 =$ 
 $400 - 100 =$ 
 $900 - 500 =$

۵۶ ابتدا محور را کامل کن. سپس به کمک آن جمع و تفریق‌ها را پیدا کن.

207 208 209 214 215 220 223 227

$208 + 12 =$   
 $219 + 8 =$   
 $217 - 9 =$   
 $225 - 7 =$   
 $215 + 11 =$   
 $214 - 6 =$

۵۷ رادمان ۱۰۵ ریال دارد. اگر او یک مداد ۸ ریالی بخرد. چقدر برایش باقی می‌ماند؟

۵۸ کسرا در مسابقه ۹۸ امتیاز به دست آورده بود. او یک کارت ۶ امتیازی دیگر گرفت. حالا چند امتیاز دارد؟



۵۹ مدیر یک مدرسه برای روز دانش آموز ۱۲۷ شاخه گل خرید. او ۸ تا از آن‌ها را به معلمان مدرسه و بقیه را به دانش آموزان اهدا کرد. تعداد دانش آموزانی که گل گرفتند، چند نفر است؟

۶۰ دبستان مریم میرزاخانی ۱۲۳ دانش آموز دارد. اگر ۵ دانش آموز دیگر در این مدرسه ثبت نام کنند. تعداد دانش آموزان چند نفر می‌شود؟



۶۱ ابتدا عددها را با حذف رقم‌های یکان و دهگان به صورت تقریبی بنویس. سپس عددهای تقریبی را جمع و تفریق کن.


$259 \rightarrow \dots\dots\dots$ $+ 433 \rightarrow + \dots\dots\dots$ <hr/>	$882 \rightarrow \dots\dots\dots$ $- 346 \rightarrow - \dots\dots\dots$ <hr/>	$644 \rightarrow \dots\dots\dots$ $- 577 \rightarrow - \dots\dots\dots$ <hr/>
---	---	---

۶۲ مانند نمونه در جاهای خالی عدد مناسب قرار بده و عددی را که به عدد وسط نزدیک‌تر است، رنگ کن.






خلاق باش.



۶۳ با سکه‌های روبرو به چند روش می‌توانی ۳۵۰ ریال درست کنی؟



۶۴ مانند نمونه هر عدد را به صورت باز شده بنویس.



۴۸۹ =


۵۴۰ =

۳۰۲ =

۹۹۹ =

۵۷۳ =

بازی ریاضی



۶۵ قورباغه برای رسیدن به خانه فقط باید در مسیری بپرد که عدد آن به ۳۰۰ نزدیک‌تر باشد.

مسیر حرکت قورباغه را رنگ کن.

