

# فصل اول: عدد و رقم

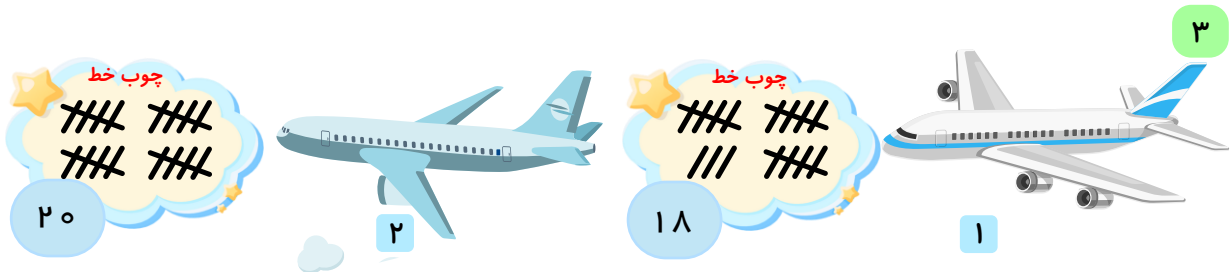


۱ الف) ۲۳ سیب

ب) دسته‌بندی کردن سیب‌ها (دسته‌های ۵ تایی یا ۱۰ تایی) - شمارش با خط زدن روی سیب‌ها

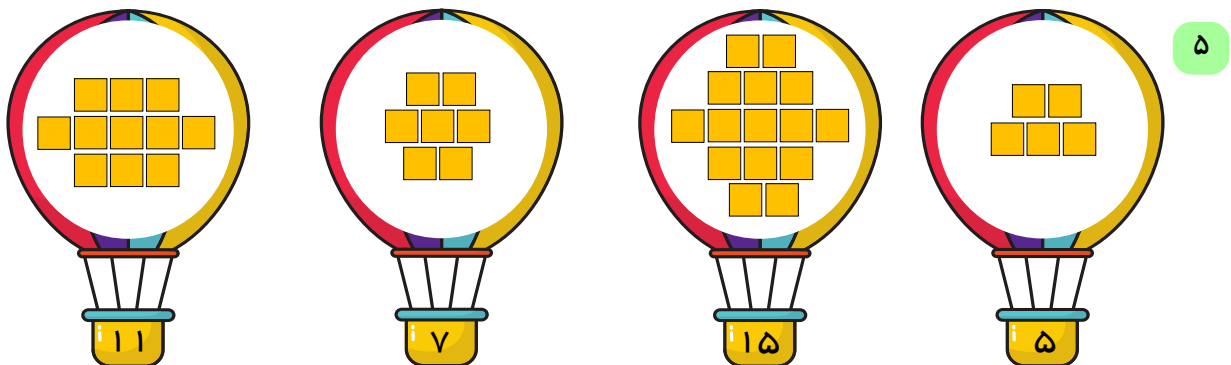
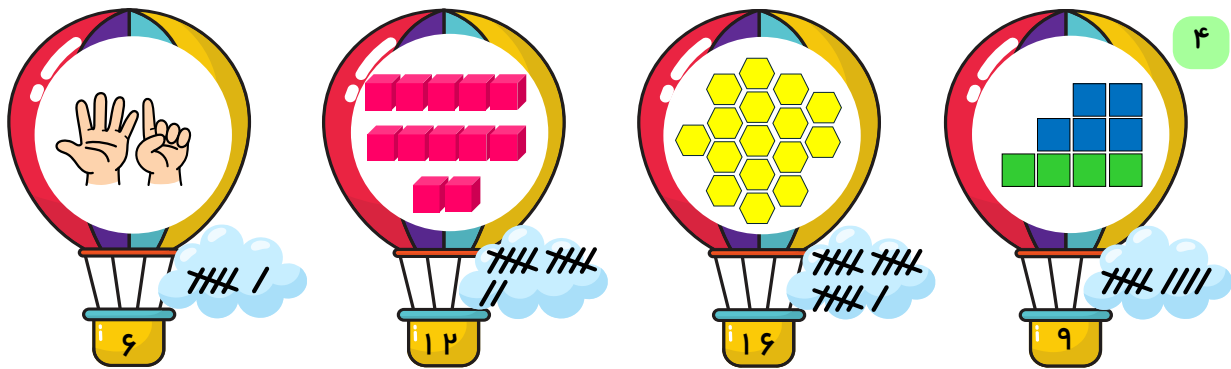
پ) دسته‌بندی کردن سیب‌ها (دسته‌های ۵ تایی یا ۱۰ تایی) - شمردن با کنار گذاشتن یکی یکی

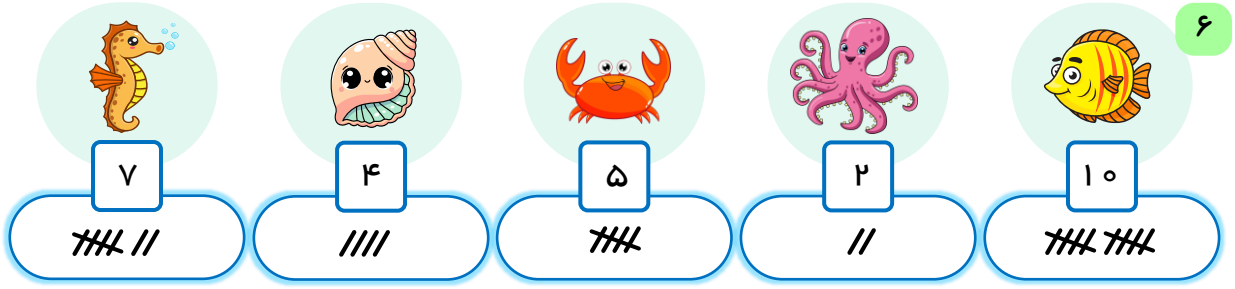
۲ به ترتیب از راست به چپ ۶ - ۱۰ - ۱۸



ب) باز پاسخ

الف) ۲





٦

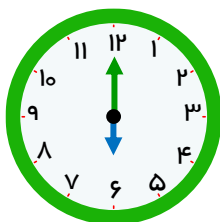


٧

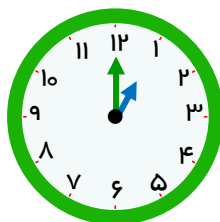


٦	١	٤	٥	٩	٢	٨	٣	٧
٨	٥	٢	٦	٧	٣	٩	٤	١
٩	٧	٣	١	٤	٨	٥	٢	٦
٣	٦	٨	٩	٥	١	٢	٧	٤
٧	٤	٥	٨	٢	٦	١	٩	٣
٢	٩	١	٧	٣	٤	٦	٥	٨
٤	٨	٩	٣	٦	٥	٧	١	٢
١	٢	٧	٤	٨	٩	٣	٦	٥
٥	٣	٦	٢	١	٧	٤	٨	٩

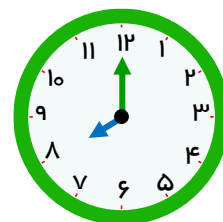
٨



٦ ساعت



١ ساعت

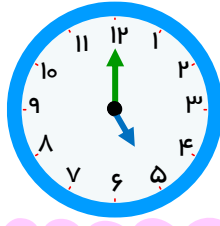


٨ ساعت

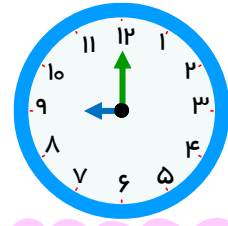
٩



۲ ساعت



۵ ساعت




۹ ساعت

۱۰



۱۱



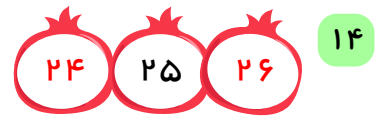


۱۲

حدس بزن

۱۳ باز پاسخ


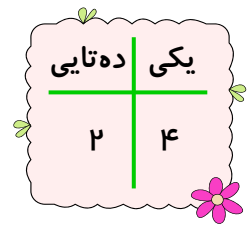
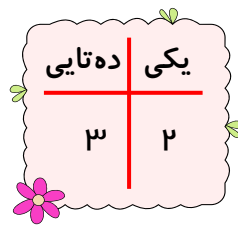
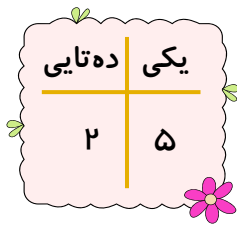
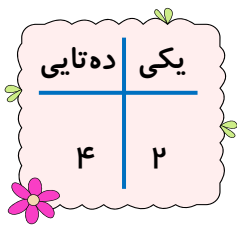
۱۵ - بیشتر از ۱۲ // // // // ۱۲ کمتر از ۱۵

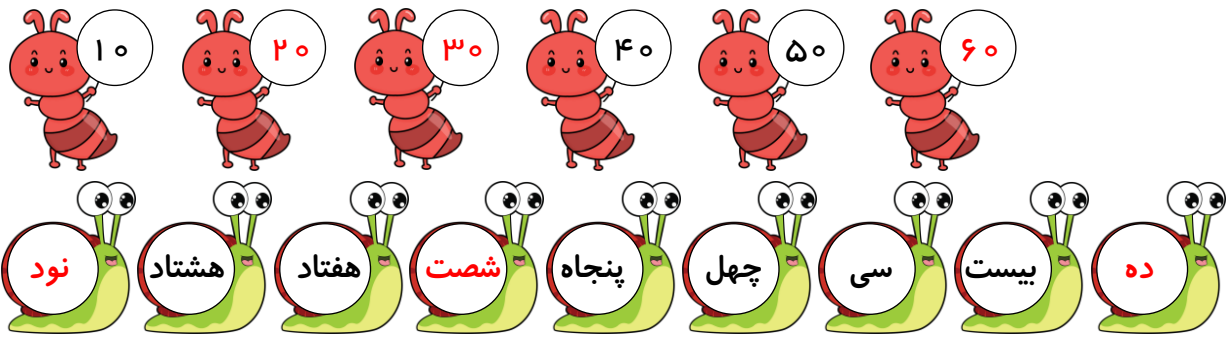




دسته‌های ده‌تایی و یکی

۱۶ به ترتیب بالا به پایین از راست به چپ





۱۸

به عدد: ۳۴ یا ۴۳  
به حروف: سی و چهار یا چهل و سه

به عدد: ۹۰  
به حروف: نود

به عدد: ۹۵ یا ۵۹  
به حروف: پنجاه و نه یا نود و پنج

به عدد: ۱۱  
به حروف: یازده

۱۹

۲۰ - ۲۹ - ۲۲ - ۹۲ - ۹۹

یکی	ده تایی
۱	۶


۲۱ \* رقم: ۱۶

\* حروف: شانزده

یکی	ده تایی
۲	۷

\* رقم: ۲۷

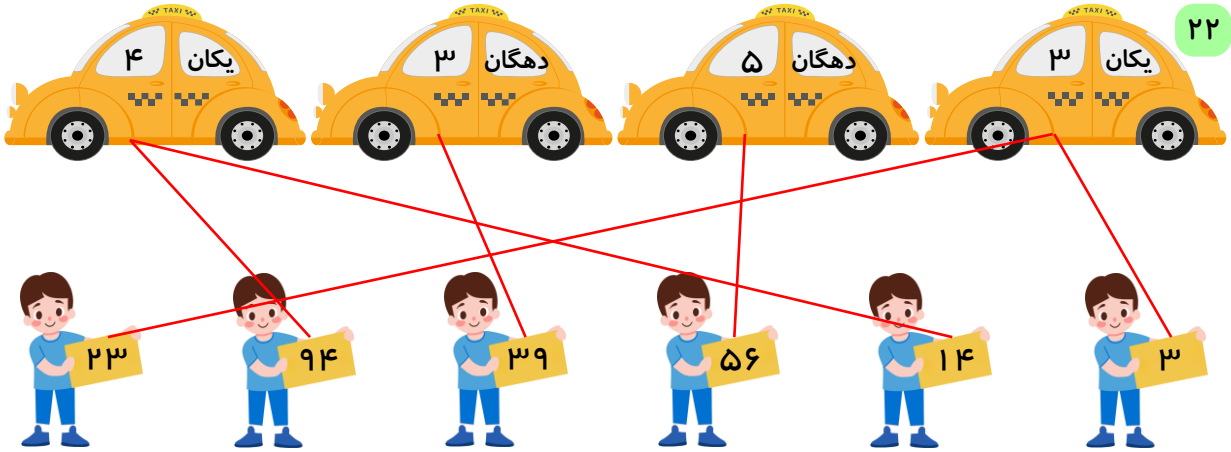
\* حروف: بیست و هفت



ده تایی	یکی
۳	۱

\* رقم : ۳۱

\* حروف : سی و یک



کوچک ترین عدد دو رقمی را بنویس. **رقم : ۱۰** حروف: ده **۲۳**


بزرگ ترین عدد یک رقمی را بنویس. **رقم : ۹** حروف: نه

عدد دو رقمی که یکان آن ۳ و دهگان آن ۶ باشد. **رقم : ۶۳** حروف: شصت و سه


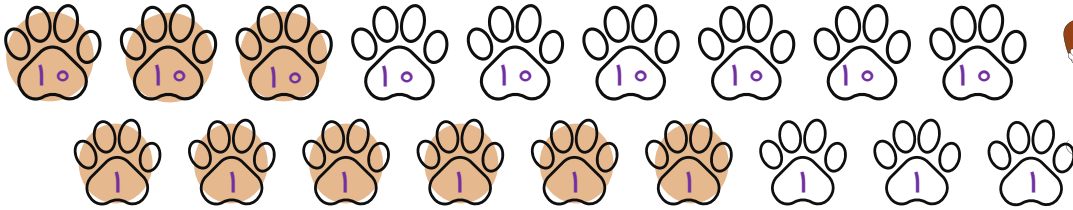
عدد دو رقمی که یکان آن ۰ و دهگان آن یکی بیشتر از ۲ باشد. **رقم : ۳۰** حروف: سی

عدد دو رقمی که یکان آن کوچک ترین عدد یک رقمی و دهگان آن بزرگ ترین عدد یک رقمی باشد. **رقم : ۹۰** حروف: نود

عدد دو رقمی که رقم یکان آن ۹ و رقم دهگان آن ۵ تا کمتر از رقم یکان باشد. **رقم : ۴۹** حروف: چهل و نه



۲۴



۱۴

۳۵

۴۲

۶۷

شش ده تایی و هفت یکی

یک ده تایی و چهار یکی

چهار ده تایی و دو یکی

سه ده تایی و پنج یکی


۲۵

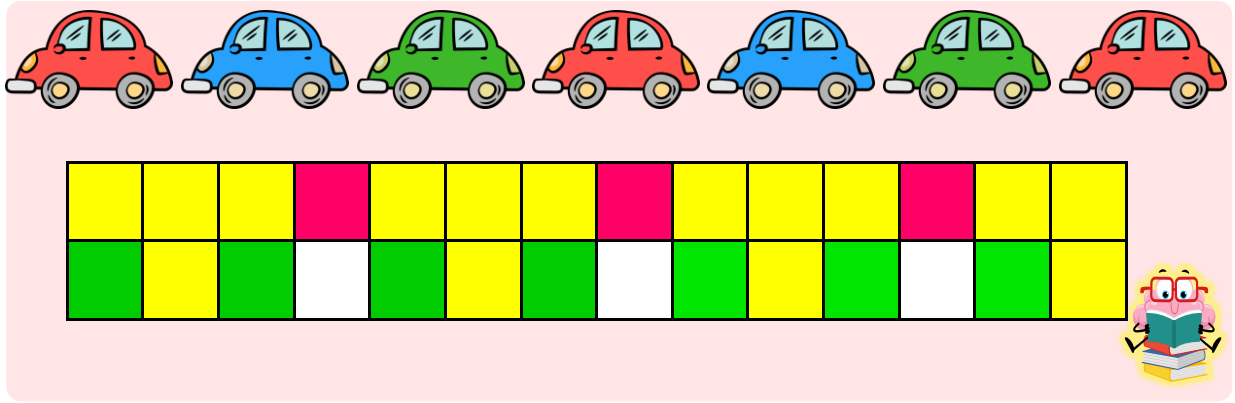
۹۳ - ۸۳ - ۷۳ - ۶۳ - ۵۳ - ۴۳ - ۳۳ - ۲۳ - ۱۳ ۲۶

۴۹ - ۴۸ - ۴۷ - ۴۶ - ۴۵ - ۴۴ - ۴۳ - ۴۲ - ۴۱ - ۴۰ ۲۷

الگویابی کن.

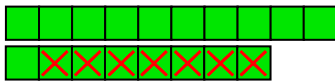
۲۸ الگویابی کن.





حل مسئله ( رسم شکل )

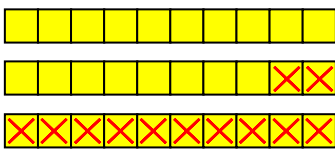
۲۹ رادمان ۱۱ بادکنک سبز دارد.



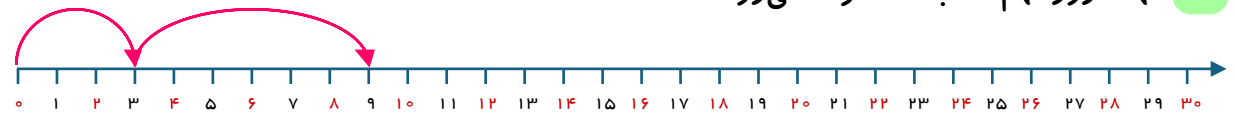
۳۰ ۸ قایق نرسیدند.



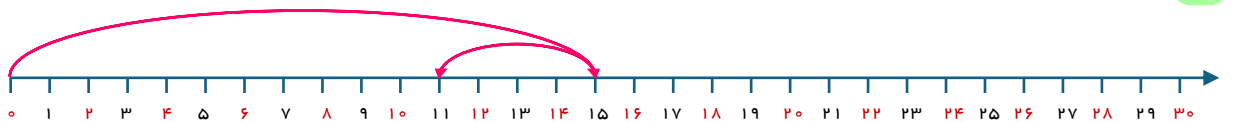
۳۱ ۱۸ بوته تره در باغچه وجود دارد.



۳۲ مهسا روز نهم ماه به مسافرت می‌رود.



۳۳ پسر عمه کسرا ۱۱ سال دارد.



۳۴ ۱۱ کتاب دارد.



۳۵ ۶ نفر در این صف ایستاده‌اند.



۳۶ ۳۲ نفر در این مهد کودک هستند.



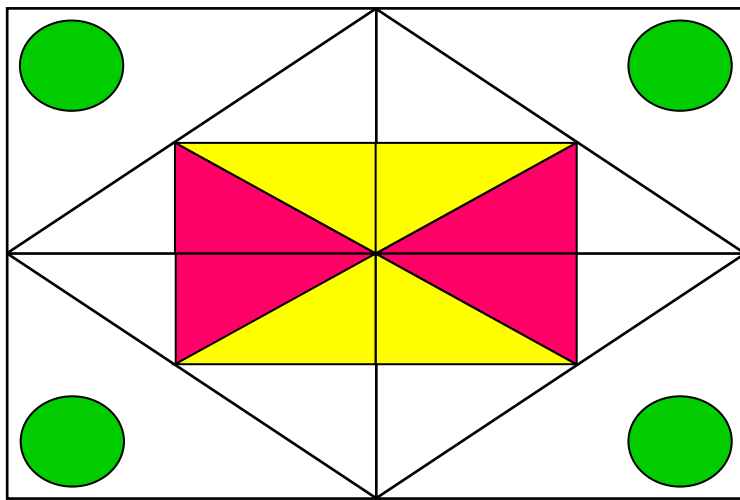


۳۷ او ۱۲ ماشین دارد.



۳۸ کسرا ۲۵ نهال کاشته است.

حدس بزن

۳۹ باز پاسخ



۴۰

جمع و تفریق



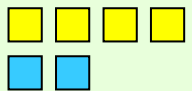
۴۱


$$۵ + ۲ = ۷$$


$$۶ + ۷ = ۱۳$$

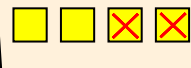
$$۹ - ۳ = ۶$$


$$۷ - ۴ = ۳$$


$۴ + ۲ = ۶$   



$۵ + ۶ = ۱۱$   



$۷ - ۵ = ۲$   


$۴ - ۲ = ۲$   



$۷ + ۶ = ۱۳$   


$۵ + ۳ = ۸$   



$۴ + ۳ + ۵ + ۲ = ۱۴$   


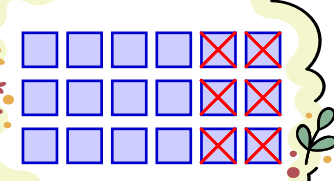
$۳ + ۴ + ۵ = ۱۲$   


$۲ + ۵ + ۳ = ۱۰$

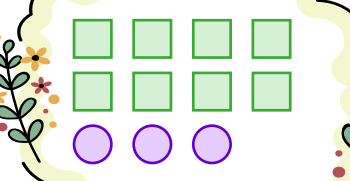


$۴ + ۲ + ۴ = ۱۰$



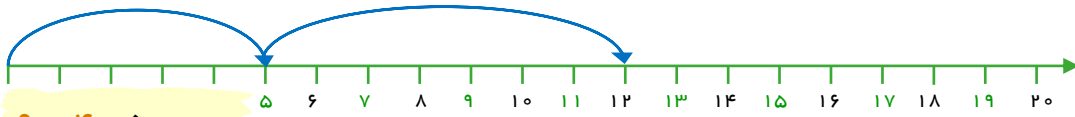


$۱۸ - ۶ = ۱۲$

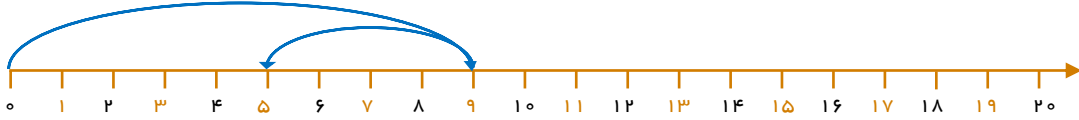


$۸ + ۳ = ۱۱$

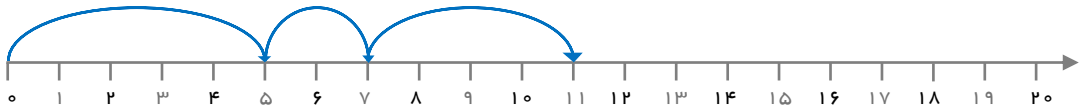
$$۵ + ۷ = ۱۲$$



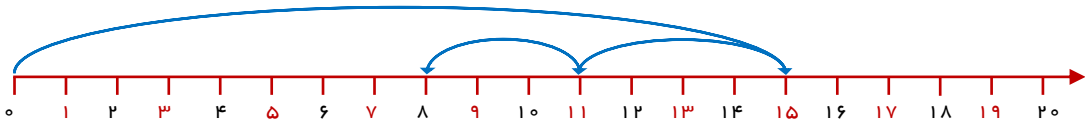
$$۹ - ۴ = ۵$$



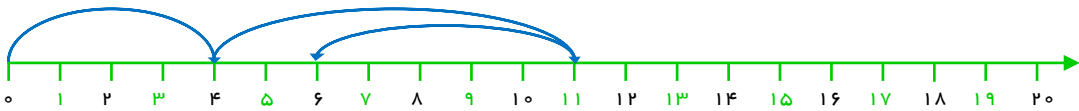
$$۵ + ۲ + ۴ = ۱۱$$



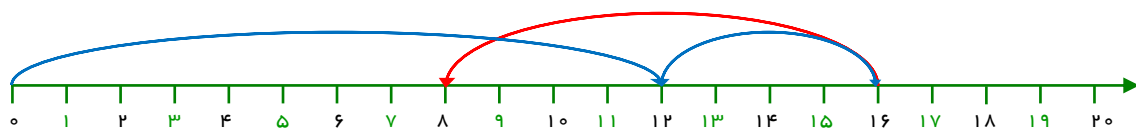
$$۱۵ - ۴ - ۳ = ۸$$



$$۴ + ۷ - ۵ = ۶$$



۴۷ الان خرگوش روی عدد ۸ قرار دارد.



$$۱۰ + ۳ + ۵ + ۲ = ۲۰$$

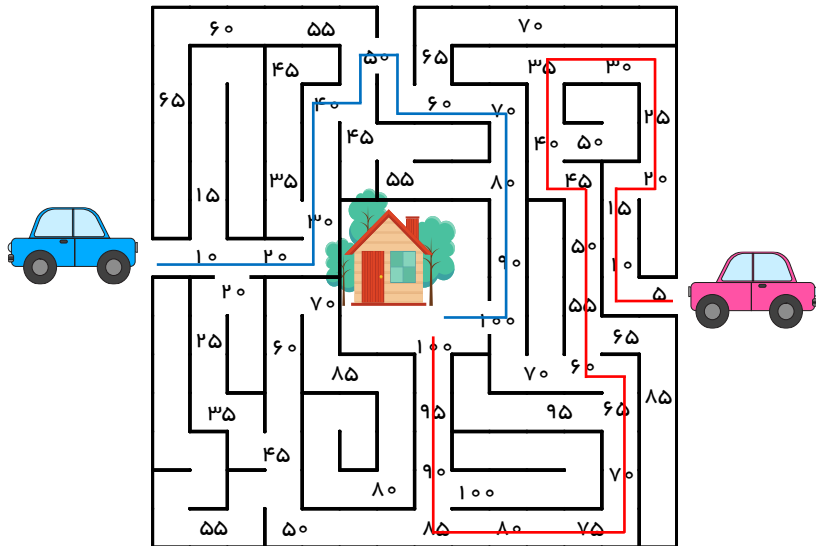
$$۱۰ + ۲۰ + ۴۰ + ۵ = ۷۵$$

$$۳ + ۵ + ۵ + ۲۰ = ۳۳$$

$$۴۰ + ۱۰ + ۵ + ۵ + ۲ = ۶۲$$

$$۳ + ۶ + ۲۰ + ۵ + ۱۰ + ۵ = ۴۹$$

$$۴ + ۵ + ۳۰ + ۱۰ + ۵ = ۵۴$$



۴۹

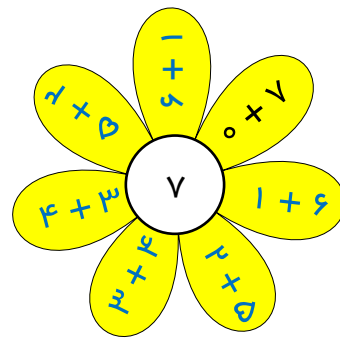
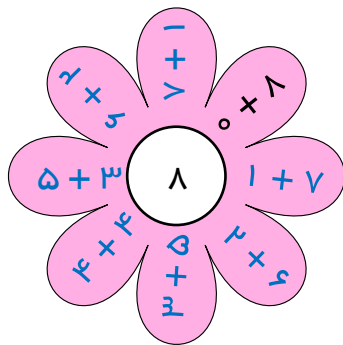
۱۰ و ۲۰ و ۳۰ و ۴۰

۵۰ ۴۰ صفحه کتاب می خواند.

$$۲۰ - ۵ - ۵ = ۱۰$$

۵۱ او ۱۰ بادکنک برایش مانده است.

۵۲




$$۸ - ۴ = ۴$$


۵۳ ۴ تا داخل سبد است.

$$۱۰ - ۲ = ۸$$


۵۴ ۸ تا داخل پارکینگ است.

وقتی رادمان چشم‌هایش را باز کرد، صدای گنجشک‌ها را شنید. ساعت  بود و نور آفتاب قشنگی در اتاقش افتاده بود.

○ به ۸ مانده


او با عجله صبحانه خورد و با کیف مدرسه‌اش به ایستگاه اتوبوس رفت. وقتی رادمان به مدرسه رسید ساعت  بود.

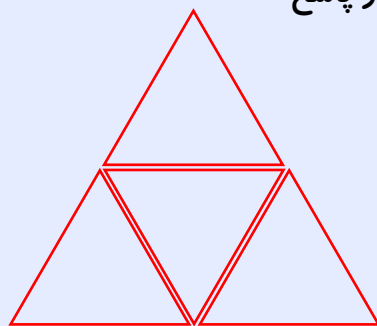
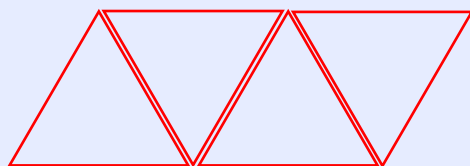
○ به ۷ مانده

بعد از مدرسه رادمان با دوستانش در حیاط مدرسه فوتبال بازی کرد. وقتی به خانه برگشت ساعت  بود و بوی غذای مادرش، همه‌ی خانه را پر کرده بود.

○ از ۹ گذشته


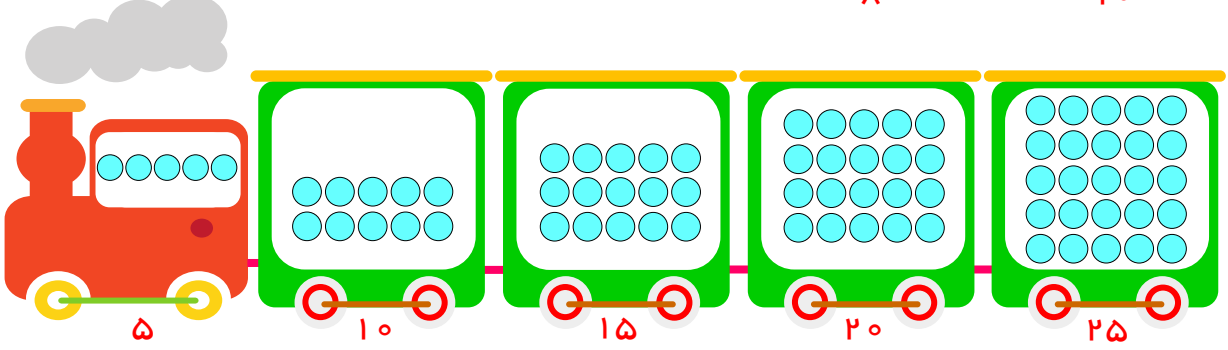
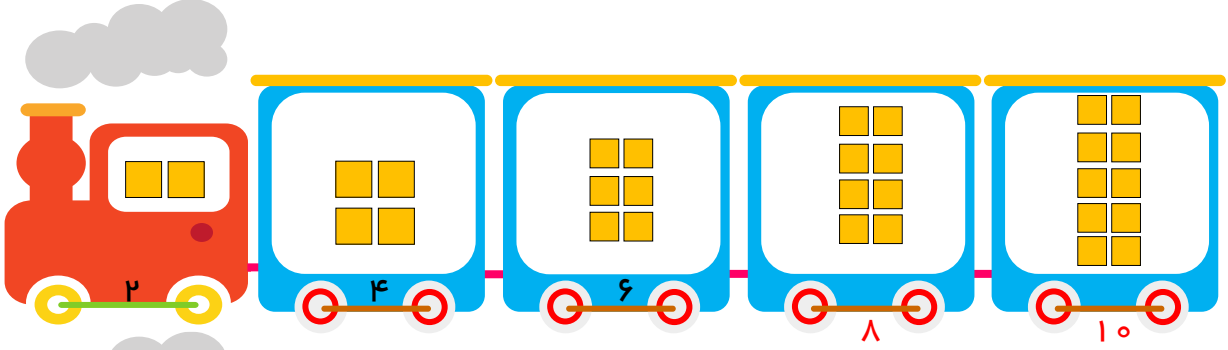
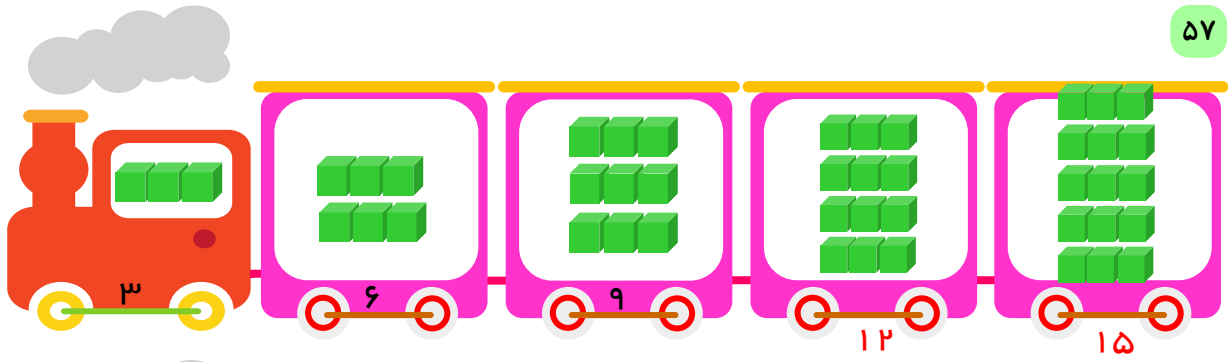
○ از ۱ گذشته

شب که شد، رادمان بعد از تماشای کارتون مورد علاقه‌اش، مسواک زد و آماده خوابیدن شد. آن موقع ساعت  بود.

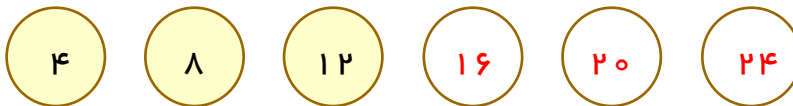
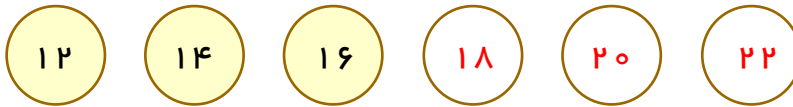
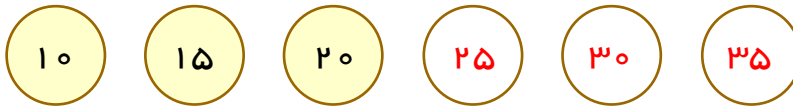
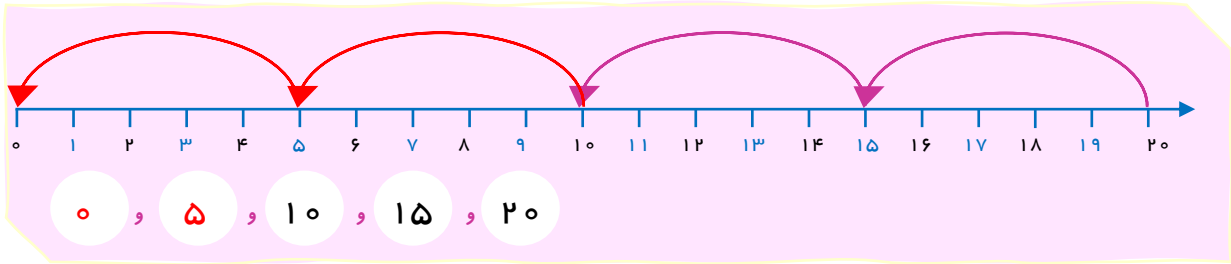
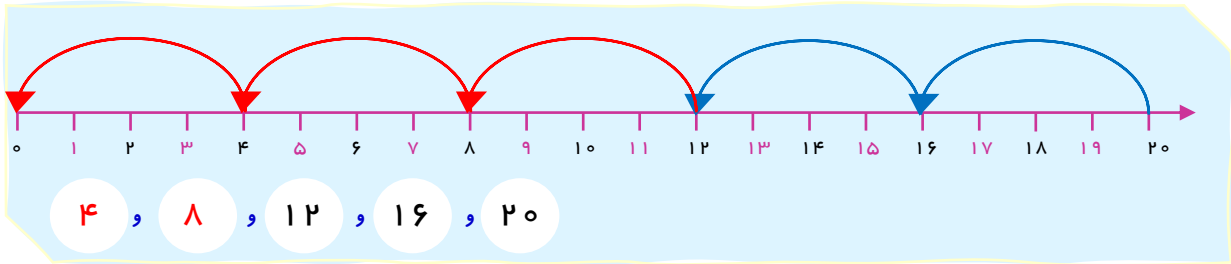


شمارش چندتا چندتا







6	12	18	24	30




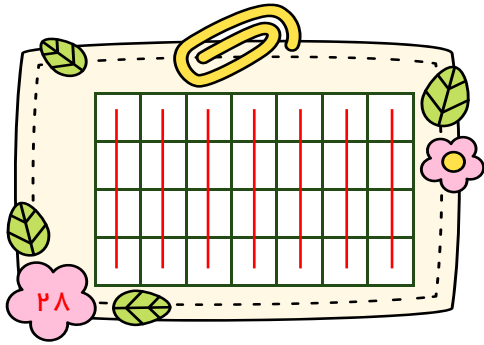
۶۱ با ادامه دادن رنگ‌ها، الگوی شمارش را کامل کن.



۳ و ۶ و ۹ و ۱۲ و ۱۵ و ۱۸ و ۲۱ و ۲۴ و ۲۷ و ۳۰



۴ و ۸ و ۱۲ و ۱۶ و ۲۰ و ۲۴ و ۲۸ و ۳۲ و ۳۶ و ۴۰



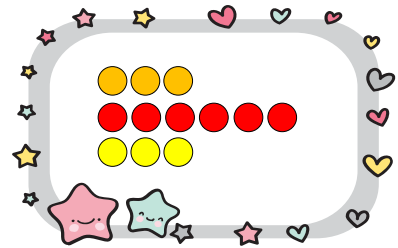
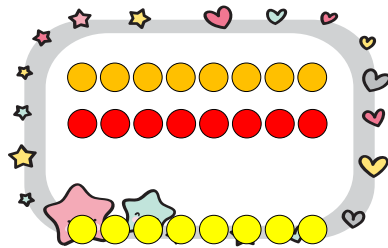
۶۲

$۵ + ۳ + ۲ = ۱۰$

$۸ + ۸ + ۸ = ۲۴$

$۳ + ۶ + ۳ = ۱۲$

۶۳



۶۴



عدد ۶ ۶۵

۳ و ۶ و ۹ و ۱۲ و ۱۵ و ۱۸ و ۲۱

عدد ۱۸ ۶۶

۵ و ۱۰

عدد ۱۰ ۶۷

۴ و ۸ و ۱۲ و ۱۶

عدد ۱۶ ۶۸

$$۴ + ۴ + ۴ = ۱۲$$


۴ و ۸ و ۱۲

ماشین‌های او روی هم ۱۲ چرخ دارند. ۶۹

$$۶ + ۶ + ۶ + ۶ + ۶ = ۳۰$$

۶ و ۱۲ و ۱۸ و ۲۴ و ۳۰

روی هم ۳۰ تا هستند. ۷۰

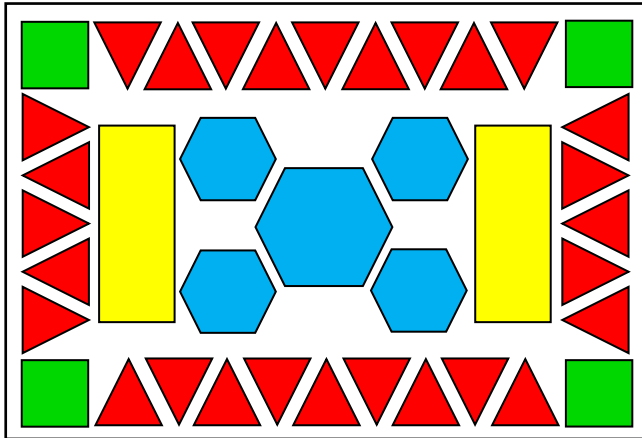


۷۱

خلاق باش.

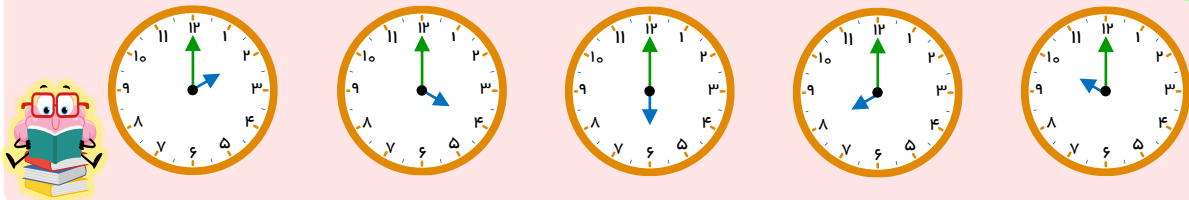
باز پاسخ ۷۲





الگویابی کن.

۷۴ عقربه‌های کوچک را با توجه به الگوی ساعت‌ها رسم کن.



بازی و ریاضی



۱	۲	۳	۴	۵	۸	۹	۱۰	۱۱	۱۲		
۵۰	۴۹	۴۸	۴۷	۶	۷	۳۰	۲۹	۲۸	۱۳		
۵۳	۵۲	۵۱	۵۸	۵۹	۴۶	۴۵	۴۴	۳۱	۲۶	۲۷	۱۴
۵۴	۵۵	۵۶	۵۷	۶۰	۶۱	۶۲	۴۳	۳۲	۲۵	۱۶	۱۵
۶۹	۶۸	۶۷	۶۶	۶۵	۶۴	۶۳	۴۲	۳۳	۲۴	۱۷	۱۸
۷۰	۷۱	۷۲	۷۳	۷۴	۷۵	۷۶	۴۱	۳۴	۲۳	۲۲	۱۹
۸۳	۸۲	۸۱	۸۰	۷۹	۷۸	۷۷	۴۰	۳۵	۳۶	۲۱	۲۰
۸۴	۸۷	۸۸	۹۱	۹۲	۹۴	۹۶	۳۹	۳۸	۳۷		
۸۵	۸۶	۸۹	۹۰	۹۳	۹۵	۹۷	۹۸	۹۹	۱۰۰		



۲ + ۹ + ۷ = ۱۸

۹ + ۵ - ۲ = ۱۲

